





<b>Gipfelplan:</b> <b>7a Mathematik</b> <b>Konstruktion von Dreiecken u.</b> <b>Achsenspiegelung</b>	<b>Name:</b>	<b>Datum:</b>
---	--------------	---------------



*Wir sind die Gipfelstürmer!*

Aufgaben	Erle digt	am:	kontrolliert:	Die Aufgaben sind mir leicht, mittel oder schwer gefallen.		
						
	✓					
<b>P1</b> <b><u>Konstruktion von Dreiecken</u></b> Schau dir bitte zuerst das Video an! <a href="https://www.youtube.com/watch?v=QiCtSIUDjGI">https://www.youtube.com/watch?v=QiCtSIUDjGI</a>  Lies dir den grünen Kasten auf S. 81 genau durch. Schreibe ihn in dein Heft.						
<b>P2</b> Versuche nun selbst Dreiecke zu konstruieren, indem du die Beispiele von S.81 und S. 82 überträgst. Zeichne immer zuerst eine Planfigur.						
<b>P3</b> <b><u>Konstruktion von Dreiecken</u></b> <b><u>SSS</u></b> Schau dir die Aufgabe (s.Link) an und versuche, sie zu lösen. Kontrolliere sie dann.  <a href="https://www.geogebra.org/m/rafPdbyV#material/zxbUAU24">https://www.geogebra.org/m/rafPdbyV#material/zxbUAU24</a> Bearbeite dann S.82/Nr. 2 (SSS),						
<b>P4</b> <b><u>Konstruktion von Dreiecken</u></b> <b><u>SWS</u></b> Schau dir die Aufgabe (s.Link) an und versuche, sie zu lösen. Kontrolliere sie dann. <a href="https://www.geogebra.org/m/rafPdbyV#material/DzKGaX8g">https://www.geogebra.org/m/rafPdbyV#material/DzKGaX8g</a> Bearbeite dann S.82/Nr. 3 (SWS)						

P5	<p><b><u>Konstruktion von Dreiecken</u></b>  <b><u>WSW</u></b>          Schaue dir die Aufgabe (s.Link) an und versuche, sie zu lösen. Kontrolliere sie dann.  <a href="https://www.geogebra.org/m/rafPdbvV#material/kPJV3WeA">https://www.geogebra.org/m/rafPdbvV#material/kPJV3WeA</a></p> <p>Bearbeite dann          S.82/Nr. 4(WSW)</p>							
P6	<p><b><u>Konstruktion von Dreiecken</u></b>  <b><u>SSW</u></b>          Schaue dir die Aufgabe (s.Link) an und versuche, sie zu lösen. Kontrolliere sie dann.  <a href="https://www.geogebra.org/m/rafPdbvV#chapter/34411">https://www.geogebra.org/m/rafPdbvV#chapter/34411</a></p> <p>Bearbeite dann          S.82/Nr. 5 (SSW)</p>							
P7	<p>Bearbeite S. 82 Nr. 6.          Beschreibe die Probleme!          S.83/8, 9</p>							
P7	<p><b><u>Achsen Spiegelung</u></b>  <a href="https://www.youtube.com/watch?v=xEkJyuibM2w">https://www.youtube.com/watch?v=xEkJyuibM2w</a>  <a href="https://www.geogebra.org/m/H8H7W7WZ#material/qRFaC4NN">https://www.geogebra.org/m/H8H7W7WZ#material/qRFaC4NN</a></p> <p>Bearbeite dann          S. 91 / 1, 2</p>							
P8	<p><b><u>Üben und Nachdenken</u></b>          S. 93 Nr.2,3,4,5,6          S.94 Nr. 11, 14</p>							
P9	<p><b><u>Rückspiegel</u></b>          S. 97 Nr. 1, 2,3 und 4 links          S.97/1,4 rechts</p> <p>Kontrolliere deine Ergebnis mit den Lösungen im Buch</p>							

Unterschrift der Eltern: \_\_\_\_\_